

A

GENEL YETENEK VE GENEL KÜLTÜR TESTİ

İda. Yargı Hâk. Aday. / 2006

1. Gençliği, İkinci Meşrutiyet, İttihat ve Terakki Dönemlerine rastlayan Ragıp Bey, canlı tarih gibiydi.

Bu cümlede "canlı tarih" sözüyle anlatılmak istenen aşağıdakilerden hangisidir?

- A) Yaşadığı önemli olayları yazmış olan
- B) Güçlü, etkili bir kişiliği olan
- C) Olayların ayrıntılarına önem veren
- D) Sık sık anılarını tazeleyen
- E) Geçmişte tanık olduğu olayları belleğinde koruyan

2. "Kadar" sözcüğü, aşağıdaki cümlelerin hangisinde tahmin belirtmektedir?

- A) Onda da bende ki kadar para vardı.
- B) Bahçesinden on kilo kadar domates topladı.
- C) Avuç içi kadar bir odaya sığınmışlardı.
- D) Küçük kızın beline kadar uzanan saçları vardı.
- E) Bu kadar çalışmak onu epey yormuştu.

3. Aşağıdaki cümlelerin hangisinde "bir olay karşısında şaşırma" söz konusudur?

- A) Kentte dolaşırken siz de bu değişikliğin ayrımlarına varabilirsiniz.
- B) Benzerlerinden farklı olarak gerçekleştirilen açık oturum, bir saat içinde başladı, bitti.
- C) Birden tepsi büyüklüğünde bir dolunay çıkıvermesin mi dağların ardından.
- D) Kimi kez öyle sorular soruyorlardı ki "İşte yandım!" diyordum kendi kendime.
- E) Büyük çoğunluk, neme lauzımcı bir tutumla suskunluk içinde izledi olup bitenleri.

4. Aşağıdaki dizelerin hangisinde şair, duygularına yer vermemiştir?

- A) Bütün sevgileri atıp içimden
Varlığımı yalnız ona verdim ben.
- B) Şimdi sonu gelmez maviliklerde
Yağmurlar ruhumu yıkamaktadır.
- C) Erirken sıcakta yaz kokuları,
Ne hoştur, ne hoştur kır uykuları!
- D) Gece bir tepeden seyrettik, büyük
Yıldızların suya yansımalarını.
- E) Renkli düşlerin sınırsız evreninde
Tüm dertlerimden sıyrılmak istiyorum.

Diğer sayfaya geçiniz.

5. Aşağıdaki cümlelerin hangisinde bir yazım yanlışı vardır?

- A) Bu konuda herhangi bir sıkıntı yaşamadım.
- B) Bu alanda onun da birçok çalışması var.
- C) Söylediği her şey doğruymuş.
- D) Balkonda iç içe konmuş saksılar duruyordu.
- E) Öğretmenliğin yanısıra gazetecilik de yapıyordu.

6. Bütün sözlü anlatım ürünleri gibi Nasrettin Hoca fıkralarının da (I) tarih içinde değişime uğradığını biliyoruz. Değişim konularında (II) biçimde (III) dilde (IV) anlatım tekniğinde gözlenebilmektedir. Doğaldır ki bu değişmelerde kişilerin (V) toplumsal çevrenin ve zamanın etkileri büyüktür.

Yukarıdaki parçada numaralanmış yerlerden hangisine herhangi bir noktalama işareti koymaya gerek yoktur?

- A) I.
- B) II.
- C) III.
- D) IV.
- E) V.

7. Aşağıdaki cümlelerin hangisinde bir anlatım bozukluğu vardır?

- A) Gençlerin, boş zamanlarını değerlendirebilecekleri yeni tesisler kuruyoruz.
- B) Bahçelerin ve parkların temiz tutulması için uyarılarda bulunuyoruz.
- C) Yaşlıların, aile ortamının sıcaklığı içinde yaşamaları gerektiğini düşünüyoruz.
- D) Çocuklarımızın çamurdan yoksun sokaklarda oynamalarını istiyoruz.
- E) Bu yapıların doğaya zarar verilmeden onarılması için çalışıyoruz.

8. Aşağıdaki cümlelerin hangisinde bir anlatım bozukluğu vardır?

- A) Ne söyleyeceğimi anlayınca hemen konuyu değiştirdi.
- B) Yazılar, sıkıcı olmasına karşılık akıcı bir dille anlatılmış.
- C) Ben onun çantasında böyle bir defter taşıdığını bilmiyordum.
- D) Sözümü dinleyecek, istediklerimi yapacak sanmıştım.
- E) Başkalarını bilmiyorum; ama ben söylediklerine inanmıyorum.

9. (I) Denemede söylenenler, okura iletilmek istenenler bir söyleşi havası içinde verilir. (II) Daha doğrusu denemeci, bu hava içinde sanki kendisiyle konuşuyormuş gibi bir yol izler. (III) Nitekim denemenin başustası ve babası sayılan Montaigne, denemelerini bu hava içinde oluşturmuştur. (IV) Denemecinin, öne sürdüğü her düşünceyi doğrulama ya da kanıtlama gibi bir kaygısı bulunmaz. (V) Denemede, bilgilendirme ve öğretme temel amaç değildir. (VI) Bu da denemeyi, makaleden ve eleştiriden ayıran en belirgin özelliğidir.

Bu parçayı iki paragrafa ayırmak gerekse, ikinci paragraf hangi cümleyle başlar?

- A) II. B) III. C) IV. D) V. E) VI.

10. Güneş, Asar Dağı'nın ardından yüzünü gösterdiğinde Hafize ana, iki katlı, ahşap verandalı, yüzyıllık evinin kayrak taşı döşeli geniş avlusunu çoktan yıkamıştı. Üst kattaki balkonunda sabah kahvesini içtikten sonra yarım asırdır hayatı paylaştığı, belediyeden emekli kocasıyla kapının önünde oturup çatıdaki kiremitleri aktaracak ustayı beklemeye başladı. Bu sırada karşıdaki tahta panjurlu evin bahçesinden beyaz bir güvercin havalanıp yandaki evin bacalarından birine kondu. Yöreyle özgü olan bu bacaların her biri elli iki tuğladan oluşuyordu.

Bu parçanın anlatımıyla ilgili olarak aşağıdakilerden hangisi söylenemez?

- A) Yorumla yer verilmiştir.
B) Kanıtlanabilir yargılara yer verilmiştir.
C) Kişileştirmeye başvurulmuştur.
D) Betimleme yapılmıştır.
E) Öykülemeye başvurulmuştur.

11. Romancı kaçınılmaz olarak içinde yaşadığı toplumdan beslenir. Bu nedenle de romancıların işlevlerinden biri topluma ayna tutmaktır. En soyut anlatımlarında bile toplumu yansıtır; ama kullandıkları aynalar türlü türlüdür. Düzü var, içbükey, dışbükey olan var; sisli, siyah olan bile var. Kimileri dev aynalarını, kimileri kahkaha attıranlarını yeğler. Bence romancı hayata bir de onun gösterdiği aynadan bakmamızı istiyor.

Yazar bu sözleriyle aşağıdakilerden hangisini vurgulamak istemiştir?

- A) Roman yoluyla toplumda olup bitenleri yansıtmamanın zorluğunu
B) Romancıların toplumu yansıtmada çok farklı yollara başvurduklarını
C) Roman yazarının, içinde yaşadığı toplumdan soyutlanamayacağını
D) Toplum sorunlarını anlatmada her romancının başarılı olamadığını
E) Romancıların, toplumsal konuları daha çok ele aldıklarını

12. Hangi kitapçıya girsem başvuru kitaplarının az olmasına ya da hiç bulunmamasına şaşırıyorum. Bir zamanlar bu tür kitapları çokça basan bir kitabevi artık bunları basmaz oldu. Piyasaya baktığımızda da hep aynı tür kitaplarla karşılaşırız. Bu nedenle, yayınevlerini birbirinden ayıran fazla özellik kalmadı. Yayınevlerini aynı türden kitap bastıkları için yadırgamamak gerektiğini düşünüyorum. Çünkü yayıncılıkta uzmanlaşmış yayınevlerinin ayakta durmaları az satan kaynak kitaplara değil, çok satan kitaplara bağlı.

Bu parçada vurgulanmak istenen aşağıdakilerden hangisidir?

- A) Kimi kitapçılarda başvuru kitaplarına az rastlanmaktadır.
B) Başvuru kitaplarıyla ilgilenen okur sayısı azalmıştır.
C) Uzmanlık isteyen alanlarda kitap yazmak kolay değildir.
D) Başvuru kitaplarının getirisi yayınevinin yaşamasına yetmemektedir.
E) Yayınevleri çok aranan kitapları basmaya yetişememektedir.

13. Okumayı gönül eğlendirici bir iş sayanlara söylenecek söz yoktur. Onları okuma değil, oyalanmadır. Modaya uyup raflarına kitap dizilenlerin de yaptığı aynı şeydir. Ama şiir, roman, öykü, deneme gibi sanatsal değer taşıyan yapıtları okurken, onların düşünsel derinliklerine inmeden sanatçının dünyasını tanıyamayız. Bunu başaramazsak okuma bizim için yüzeysel, verimsiz bir uğraş olarak kalır.

Bu parçaya göre okurdan beklenen aşağıdakilerden hangisidir?

- A) Okumayı ciddi bir uğraş olarak görüp edebiyat ürünlerini onların özüne inerek okuması
B) Okuduğu kitapları değerlendirirken kendine özgü ölçütler belirlemesi
C) Edebi değeri yüksek kitapları okumaya özen göstermesi
D) Güncel kitapları okumaya ağırlık vermesi
E) Boş zamanlarının tamamını kitap okuyarak geçirmesi

14. Ben, öteden beri daha çok düz yazıyla uğraşırım. Flaubert gibi düz yazıyı şiirden üstün tutmaya kalkışmam; ama şiire verdiğim değeri düz yazıdan esirgemem. Kısacası ----

Bu parçanın son cümlesi düşüncenin akışına göre aşağıdakilerden hangisiyle tamamlanamaz?

- A) çalakalem yazmak düz yazı anlayışıyla bağdaşmaz.
B) sözcükleri seçerken, onların ses, anlam ve çağrışım güçlerine çok önem veririm.
C) sıradan konulardan ve basmakalıp söyleyişten kaçınıyorum.
D) söylemek istediklerime uygun anlatım biçimini bulmaya çalışırım.
E) her sanat yapıtının, bir amaca yönelik olduğunu düşünürüm.

15.

$$\frac{7 - 0,7}{0,05 - 0,005}$$

işleminin sonucu kaçtır?

- A) 120 B) 130 C) 140 D) 150 E) 160

16.

$$\frac{9^{18} + 9^{19} + 9^{20}}{9^{18} + 9^{17} + 9^{16}}$$

işleminin sonucu kaçtır?

- A) 9 B) 18 C) 27 D) 45 E) 81

17.

$$\frac{\frac{3}{4 - \frac{1}{x}}}{\frac{1}{3}} : \frac{4}{4 - \frac{x}{3}} = 15$$

olduğuna göre, x kaçtır?

- A) 10 B) 20 C) 30 D) 35 E) 40

18. Dört basamaklı 4A9B sayısı 12 ile tam bölünmektedir.

Buna göre, A + B toplamı en çok kaçtır?

- A) 8 B) 10 C) 11 D) 12 E) 14

19. x ve y tamsayı olmak üzere,

$$x^2 - y^2 = 13$$

eşitliğini sağlayan kaç tane (x,y) ikilisi vardır?

- A) 2 B) 3 C) 4 D) 5 E) 6

20. Birbirinden farklı üç doğal sayının karelerinin çarpımı bir tek sayı olduğuna göre, bu sayıların toplamı aşağıdakilerden hangisi olabilir?

- A) 21 B) 24 C) 28 D) 32 E) 40

21.

$$||x - 3| - 3| = 3$$

denkleminin köklerinin toplamı kaçtır?

- A) -6 B) -9 C) 0 D) 3 E) 9

22. 108 i kalansız bölen pozitif tamsayılar kümesi $\{1, 2, 3, 4, 6, \dots, 108\}$ olduğuna göre, bu kümenin eleman sayısı kaçtır?

- A) 9 B) 12 C) 15 D) 16 E) 18

23. Ali ile Cem bir işi birlikte 2 günde bitiriyor.

Ali'nin çalışma hızı Cem'ininkinin 4 katı olduğuna göre, Cem bu işi tek başına kaç günde bitirir?

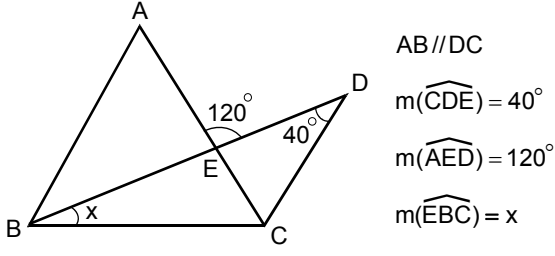
- A) 12 B) 10 C) 9 D) 8 E) 6

24. Her öğrencinin İngilizce ve Fransızca dillerinden en az birini bildiği 14 kişilik bir sınıfta, İngilizce bilenlerin sayısı 7 ve Fransızca bilenlerin sayısı 10 dur.

Bu sınıftan rastgele seçilen bir öğrencinin hem İngilizce hem Fransızca bilme olasılığı kaçtır?

- A)
- $\frac{1}{2}$
- B)
- $\frac{2}{7}$
- C)
- $\frac{5}{7}$
-
- D)
- $\frac{3}{14}$
- E)
- $\frac{5}{14}$

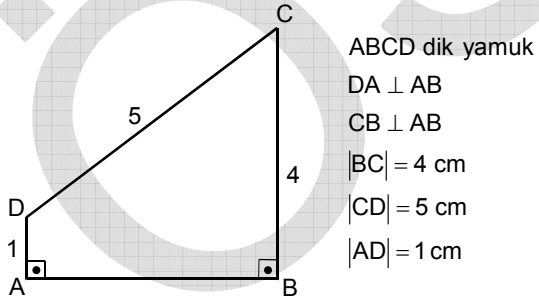
25.



Yukarıdaki şekilde $|AB| = |AC|$ olduğuna göre, x kaç derecedir?

- A) 10 B) 15 C) 20 D) 25 E) 30

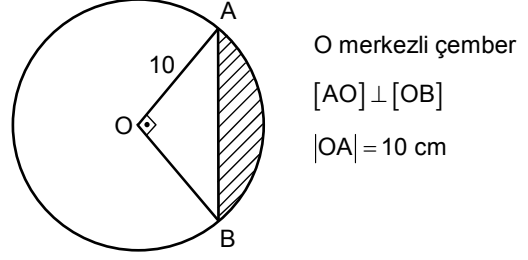
26.



Şekildeki gibi bir levha [BC] kenarı etrafında 360° döndürüldüğünde oluşan cismin hacmi kaç cm^3 tür?

- A) 12π B) 18π C) 24π D) 32π E) 36π

27.



Yukarıdaki verilere göre, taralı bölgenin alanı kaç cm^2 dir?

- A) $25\pi - 50$ B) $25\pi - 25$ C) $30\pi - 50$
D) $40\pi - 25$ E) $40\pi - 50$

28. Köşe noktaları $A(0,3)$, $B(2,-1)$ ve $C(4,-1)$ olan ABC üçgeninin BC kenarına ait kenarortayının uzunluğu kaç birimdir?

- A) 3 B) 4 C) 5 D) $3\sqrt{3}$ E) $5\sqrt{3}$

29.

- I. Orhon Kitabeleri
- II. Manas Destanı
- III. Oğuzname

Yukarıdakilerden hangileri "Göktürkler" Dönemine aittir?

- A) Yalnız I
- B) Yalnız II
- C) Yalnız III
- D) I ve II
- E) II ve III

30.

- I. Nizamiye Medresesi
- II. Tac Mahal
- III. Uluğ Bey Medresesi

Yukarıdakilerden hangileri Hindistan'da kurulan Babür Türk Devleti'ne ait yapıtlar arasındadır?

- A) Yalnız I
- B) Yalnız II
- C) Yalnız III
- D) I ve II
- E) I, II ve III

31.

- I. Öşür'ün toplanmasının mültezimlere bırakılması
- II. Asakir-i Mansure-i Muhammediye'nin kurulması
- III. Timar sisteminin bozulması

Yukarıdakilerden hangileri Osmanlı Devleti'nde ekonomik durumun bozulmasında etkili olmuştur?

- A) Yalnız I
- B) Yalnız II
- C) I ve III
- D) II ve III
- E) I, II ve III

32. Osmanlı padişahları kaçınıcı yüzyıla kadar divana başkanlık etmiştir?

- A) XV.
- B) XVII.
- C) XVIII.
- D) XIX.
- E) XX.

33.

- I. İngiltere ile Almanya arasındaki ekonomik rekabet
- II. Fransa'nın, 1871'de Almanya'ya yenilmesinin acısını unutmaması
- III. Almanya'nın Sovyet Rusya'ya saldırması

Yukarıdakilerden hangileri I. Dünya Savaşı'nın nedenleri arasındadır?

- A) Yalnız I
- B) Yalnız II
- C) Yalnız III
- D) I ve II
- E) I, II ve III

34. Aşağıdakilerden hangisi, Kurtuluş Savaşı'nda ulusal birliğin parçalanmasını engellemek amacıyla alınan önlemler arasında **değildir**?

- A) Ulusal cemiyetlerin birleştirilmesi
- B) İstiklal Marşı'nın TBMM'de kabul edilmesi
- C) TBMM'nin yetkilerini bir süre için Mustafa Kemal'e vermesi
- D) İstiklal Mahkemeleri'nin kurulması
- E) Halifeliğin kaldırılması

36. Temsilciler Kurulunun Ankara'ya gelmesinden sonra,

- I. Amasya Görüşmeleri'nin yapılması,
- II. Misak-ı Milli'nin ilan edilmesi,
- III. Erzurum Kongresi'nin toplanması

gelişmelerinden hangileri gerçekleşmiştir?

- A) Yalnız I
- B) Yalnız II
- C) Yalnız III
- D) I ve II
- E) II ve III

35. Sivas Kongresi'nde,

- I. manda ve himayenin reddi,
- II. Anadolu ve Rumeli'de bulunan cemiyetlerin birleştirilmesi,
- III. milli sınırlar içinde vatanın bir bütün olduğu

yönünde alınan kararlardan hangileri, Erzurum Kongresi'nde alınan kararların aynen kabul edildiğini gösterir?

- A) Yalnız I
- B) Yalnız II
- C) I ve III
- D) II ve III
- E) I, II ve III

37.

- I. Anzavur Ayaklanması
- II. Demirci Mehmet Ayaklanması
- III. Çerkes Ethem Ayaklanması

Kurtuluş Savaşı sırasında yukarıdaki ayaklanmaların hangilerinin çıkmasında İngilizlerin etkisi olmuştur?

- A) Yalnız I
- B) Yalnız II
- C) Yalnız III
- D) I ve II
- E) I, II ve III

38. Aşağıdakilerden hangisi 1921 Anayasası'nın kapsamında **değildir**?

- A) Bakanları tek tek oylarak meclisin seçmesi
- B) Milletvekillerinin iki yılda bir seçilmesi
- C) Meclis başkanının aynı zamanda bakanlar kurulunun da başkanı olması
- D) Kanun yapma ve yürütme yetkisinin Türkiye Büyük Millet Meclisinde toplanması
- E) Türkiye Devleti laiktir ilkesi

39. Türk ordusunun Sakarya Savaşı'nı kazanması,

- I. Afganistan ile TBMM Hükümeti arasında anlaşma yapılması,
- II. İtalya'nın işgal ettiği Anadolu topraklarından çekilmeye başlaması,
- III. Anlaşma Devletleri'nin Türk ve Yunan devletlerine ateşkes önerisinde bulunması

gelişmelerinden hangilerine etkili olmuştur?

- A) Yalnız I
- B) Yalnız II
- C) Yalnız III
- D) I ve II
- E) II ve III

40.

- I. Moskova
- II. Gümrü
- III. Ankara

Yukarıdaki antlaşmalardan hangileri, Boğazların kullanımının belirlenmesi için bir konferans düzenlenmesi ve bu konferansta alınacak kararların Türkiye'nin egemenliğine ve İstanbul'un güvenliğine zarar vermemesi gerektiğine dair hüküm içermektedir?

- A) Yalnız I
- B) Yalnız II
- C) Yalnız III
- D) I ve II
- E) II ve III

41.

- I. Karaağaç'ın Türkiye'ye bırakılması
- II. Türk-Yunan çatışmalarının sona ermesi
- III. Batı Trakya'nın Yunanistan'a bırakılması

Yukarıdakilerden hangileri Mudanya Ateşkes Anlaşması kapsamındadır?

- A) Yalnız I
- B) Yalnız II
- C) Yalnız III
- D) I ve II
- E) II ve III

42. Lozan görüşmeleri sırasında, görüş ayrılıkları yüzünden Meclis'te oluşan gruplaşmanın tehlike yaratmaya başlamasının, aşağıdakilerden hangisini zorunlu kıldığı savunulabilir?

- A) Saltanatın kaldırılmasını
- B) Halifeliğin kaldırılmasını
- C) Anayasal düzene geçilmesini
- D) Seçimlerin yenilenmesini
- E) Seçim sisteminin değiştirilmesini

43. Aşağıdakilerden hangisi, Lozan Antlaşması'nın kapsamındadır?

- A) Doğu Trakya'nın yeniden Türk topraklarına katılması
- B) Batum'un Gürcistan'a verilmesi
- C) Kafkasya sınırının belirlenmesi
- D) Rodos ve Oniki Ada'nın Yunanistan'a bırakılması
- E) Tüm azınlıkların kanun ve hukuk düzeni içinde Türklerle eşit haklara sahip olması

45.

- I. Halifeliğin kaldırılması
- II. Menemen Ayaklanması
- III. İngiltere'nin Ortadoğu'daki çıkarlarını korumak istemesi

Yukarıdakilerden hangileri Şeyh Sait Ayaklanması'nın ortaya çıkışında etkili olmuştur?

- A) Yalnız I
- B) Yalnız II
- C) I ve III
- D) II ve III
- E) I, II ve III

44.

- I. Saltanatın kaldırılması
- II. Cumhuriyetin ilan edilmesi
- III. Harf inkılabının yapılması

Yukarıdaki inkıaplardan hangilerinin ulusal egemenlik anlayışının bir gereği olduğu savunulur?

- A) Yalnız I
- B) Yalnız II
- C) Yalnız III
- D) I ve II
- E) I, II ve III

46. Boğazlar, Türk egemenliğine aşağıdakilerden hangisiyle yeniden girmiştir?

- A) Lozan Antlaşması
- B) Mudanya Ateşkes Anlaşması
- C) İstanbul Antlaşması
- D) Ankara Antlaşması
- E) Montrö Sözleşmesi

47. İç Anadolu ve Güneydoğu Anadolu bölgelerinin iklimleri,

- I. kar yağışı ve don olaylarının görülmesi,
- II. yıllık sıcaklık ortalaması,
- III. yaz kuraklığının şiddeti,
- IV. en fazla yağışın kış ve ilkbahar dönemlerinde olması

Özelliklerinin hangileri bakımından benzerlik gösterir?

- A) I ve II B) I ve IV C) II ve III
D) II ve IV E) III ve IV

48. Aşağıdakilerden hangisi Türkiye'de tarım sektöründe verim ve kaliteyi artırmak için alınması gereken önlemlerden biri değildir?

- A) Eğimin fazla olduğu yerlerde teraslama yapılması
- B) Sulama ve gübreleme yaparak nadas topraklarının azaltılması
- C) Verimsiz alanların ıslah edilerek tarıma açılması
- D) Toprağın belirli aralıklarla analiz ettirilmesi ve mineral eksikliklerinin giderilmesi
- E) Her toprağın özelliğine uygun ürün ekiminin yapılması

49. Türkiye'de, büyük kentlerdeki gecekondu sorunu çözmek için,

- I. kent sayısını artırmak,
- II. kalkınmada öncelikli yörelere yatırımı hızlandırmak,
- III. ucuz konut yapımını sağlamak

Önlemlerinden hangilerine öncelik verilmelidir?

- A) Yalnız I B) Yalnız II C) Yalnız III
D) I ve II E) II ve III

50.

- I. Aktif nüfus içinde kadın nüfus oranının fazla olması
- II. Kırsal kesimde doğum oranının fazla olması
- III. 65 yaş ve üzeri nüfus oranının fazla olması

Yukarıdakilerden hangileri Türkiye nüfus yapısının özelliklerindedir?

- A) Yalnız I B) Yalnız II C) Yalnız III
D) I ve II E) II ve III

51. 1982 Anayasası'nda aşağıdakilerden hangisi benimsenmiştir?

- A) Halk vetosu
- B) Halk girişimi
- C) Kurucu referandum
- D) Danışma referandumu
- E) Temsilcilerin azli

53. Anayasa Mahkemesi 1995 yılında, 2820 sayılı Milletvekili Seçimi Kanunu'nda öngörülen seçim çevresi barajını aşağıdakilerden hangisine aykırı görerek iptal etmiştir?

- A) Tek derecelilik ilkesine
- B) Sosyal adalet ilkesine
- C) Yönetimde istikrar ilkesine
- D) Temsilde adalet ilkesine
- E) Temsili vekalet ilkesine

52. Temel hak ve hürriyetlerin kanunla sınırlanmasında "başvurulan aracın sınırlama amacı açısından gerekli olması" aşağıdakilerden hangisinin gereğidir?

- A) Eşitlik ilkesinin
- B) Ölçülülük ilkesinin
- C) Öz güvencenin
- D) Demokratik toplum düzeninin gereklerinin
- E) Adalet ilkesinin

54. Aşağıdakilerden hangisi parlamenter sistemin temel özelliklerinden biri değildir?

- A) Devlet başkanının siyasal bakımdan sorumsuzluğu
- B) Yürütme organının iki kanatlı bir yapıda oluşu
- C) Yasama organının hükümeti güvensizlik oyuyla düşürebilmesi
- D) Yürütme organının yasama meclisini fesih yetkisine sahip olması
- E) Devlet başkanının tek başına kullanabileceği geniş yetkilere sahip olması

A

İda. Yargı Hâk. Aday. / 2006

55. Bir ülkenin, sahip olduğu kaynakların miktarını artırarak veya kalitelerini iyileştirerek üretim olanaklarını artırmasına ya da üretimin teknolojisini değiştirerek daha yüksek üretim düzeylerine ulaşmasına ne ad verilir?

- A) Ekonomik büyüme
- B) Maliyet enflasyonu
- C) Tam istihdam
- D) Özelleştirme
- E) Serbest piyasa ekonomisi

56. Aşağıdakilerden hangisi enflasyon hedeflemesi rejiminin ön koşullarından biri değildir?

- A) Fiyat istikrarı amacına sıkı bir biçimde bağlılık
- B) Bağımsız ve güvenilir bir merkez bankasının varlığı
- C) Yüksek mali baskınlık
- D) Güçlü ve gelişmiş finansal piyasalar
- E) Teknik altyapının sağlanması

57. Aşağıdakilerden hangisi Uluslararası Para Fonu' nun (IMF), sermaye paylarının artırılmasına karar verdiği ülkelerden biri değildir?

- A) Çin
- B) Kanada
- C) Meksika
- D) Kore
- E) Türkiye

58. Aşağıdakilerden hangisi, ekonomik kuruluş ve ekonomik faaliyetleri düzenleme ve denetleme amacıyla kurulmuş kurullardan biri değildir?

- A) Enerji Piyasası Düzenleme Kurulu
- B) Bankacılık Düzenleme ve Denetleme Kurulu
- C) Rekabet Kurulu
- D) Sermaye Piyasası Kurulu
- E) Radyo Televizyon Üst Kurulu

59. 11-13 Eylül 2006 tarihlerinde toplanan 1.Uluslararası Ekonomi Konferansı aşağıdakilerden hangisi tarafından düzenlenmiştir?

- A) Dışişleri Bakanlığı
- B) Dış Ticaret Müsteşarlığı
- C) Hazine Müsteşarlığı
- D) Türkiye Ekonomi Kurumu
- E) Türkiye İstatistik Kurumu

60. "T.C. kimlik numarası" hangi tarihten itibaren vergi numarası olarak da kullanılmaya başlanacaktır?

- A) 01-11-2006
- B) 01-12-2006
- C) 01-01-2007
- D) 01-06-2007
- E) 01-11-2007

**GENEL YETENEK VE GENEL KÜLTÜR
TESTİ BİTTİ.**

ALAN BİLGİSİ TESTİNE GEÇİNİZ.